

Materiał ćwiczeniowy z matematyki
Poziom podstawowy
Styczeń 2012

Klucz odpowiedzi do zadań zamkniętych
oraz
schemat oceniania

KLUCZ ODPOWIEDZI DO ZADAŃ ZAMKNIĘTYCH

Nr zadania	1	2	3	4	5	6	7	8	9	10	11	12	13	14	15	16	17	18	19	20	21	22	23
Odpowiedź	C	D	A	B	C	D	C	B	B	B	A	D	B	D	B	C	B	B	A	A	D	C	B

MODEL OCENIANIA ZADAŃ OTWARTYCH**Zadanie 24. (0 - 2)**

Rozwiąż równanie $x^3 - 2x^2 - 13x + 26 = 0$.

I sposób rozwiązania (metoda grupowania)

Przekształcamy lewą stronę równania do postaci iloczynowej, stosując metodę grupowania wyrazów.

$$x^2(x-2) - 13(x-2) = 0 \text{ lub } x(x^2-13) - 2(x^2-13) = 0$$

$$(x^2-13)(x-2) = 0$$

$$\text{Stąd } x = \sqrt{13} \text{ lub } x = -\sqrt{13} \text{ lub } x = 2.$$

II sposób rozwiązania (metoda dzielenia)

Stwierdzamy, że liczba 2 jest pierwiastkiem wielomianu $x^3 - 2x^2 - 13x + 26$.

Dzielimy wielomian $x^3 - 2x^2 - 13x + 26$ przez dwumian $x - 2$.

Zatem $(x^2 - 13)(x - 2) = 0$. Stąd $x = \sqrt{13}$ lub $x = -\sqrt{13}$ lub $x = 2$.

III sposób rozwiązania (schemat Hornera)

Szukamy pierwiastka wśród całkowitych dzielników wyrazu wolnego $\{-26, -13, -2, -1, 1, 2, 13, 26\}$. Stwierdzamy, że pierwiastkiem jest liczba 2.

Wykorzystując schemat Hornera

	1	-2	-13	26
2	1	0	-13	0

wyznaczamy iloraz z dzielenia wielomianu $x^3 - 2x^2 - 13x + 26$ przez dwumian $x - 2$: $x^2 - 13$.

Zatem $(x^2 - 13)(x - 2) = 0$. Stąd $x = \sqrt{13}$ lub $x = -\sqrt{13}$ lub $x = 2$.

Schemat oceniania

Zdający otrzymuje 1pkt
gdy:

- zapisze równanie w postaci iloczynowej: $x^2(x-2) - 13(x-2) = 0$
lub $x(x^2 - 13) - 2(x^2 - 13) = 0$

albo

- podzieli wielomian $x^3 - 2x^2 - 13x + 26$ przez dwumian $(x-2)$ otrzymując iloraz: $x^2 - 13$.

Zdający otrzymuje 2pkt
gdy wyznaczy bezbłędnie wszystkie rozwiązania równania: $x = \sqrt{13}$ lub $x = -\sqrt{13}$ lub $x = 2$.

Zadanie 25. (0 - 2)

Udowodnij, że suma kwadratów dwóch kolejnych liczb nieparzystych jest liczbą parzystą.

I sposób rozwiązania

Zapisujemy dwie kolejne liczby nieparzyste w postaci $2n+1$ oraz $2n+3$, gdzie n należy do zbioru liczb całkowitych.

Suma kwadratów dwóch kolejnych liczb nieparzystych jest równa $(2n+1)^2 + (2n+3)^2$.

Przekształcając wyrażenie otrzymujemy:

$$4n^2 + 4n + 1 + 4n^2 + 12n + 9 = 8n^2 + 16n + 10 = 2(4n^2 + 8n + 5).$$

II sposób rozwiązania

Zapisujemy dwie kolejne liczby nieparzyste w postaci $2n-1$ oraz $2n+1$, gdzie n należy do liczb całkowitych.

Suma kwadratów dwóch kolejnych liczb nieparzystych jest równa $(2n-1)^2 + (2n+1)^2$.

Przekształcając wyrażenie otrzymujemy:

$$4n^2 - 4n + 1 + 4n^2 + 4n + 1 = 8n^2 + 2 = 2(4n^2 + 1)$$

Schemat oceniania

Zdający otrzymuje 1pkt
gdy zapisze wyrażenie w postaci $(2n+1)^2 + (2n+3)^2$ lub $(2n-1)^2 + (2n+1)^2$, gdzie n należy do zbioru liczb całkowitych.

Zdający otrzymuje 2pkt
gdy przekształci wyrażenie $(2n+1)^2 + (2n+3)^2$ lub $(2n-1)^2 + (2n+1)^2$ do postaci $2k$, gdzie k należy do zbioru liczb całkowitych.

Uwaga

Jeżeli zdający sprawdzi prawdziwość twierdzenia dla konkretnych wartości, to otrzymuje **0 punktów**.

Zadanie 26. (0 - 2)

Wyznacz sumę wszystkich dwucyfrowych parzystych liczb naturalnych.

Rozwiązanie

Dwucyfrowe parzyste liczby naturalne tworzą ciąg arytmetyczny, w którym $a_1 = 10$, $r = 2$, $n = 45$.

Obliczamy sumę tych liczb, korzystając ze wzoru na sumę n początkowych wyrazów ciągu arytmetycznego: $S_{45} = \frac{a_1 + a_{45}}{2} \cdot 45 = \frac{a_1 + a_1 + (45-1) \cdot r}{2} \cdot 45 = 2430$.

Schemat oceniania

Zdający otrzymuje 1pkt
gdy zapisze $a_1 = 10$, $r = 2$, $n = 45$.

Zdający otrzymuje 2pkt
gdy wyznaczy $S_{45} = 2430$.

Uwagi

1. Jeżeli zdający poda tylko sumę, to otrzymuje **0 punktów**.
2. Jeżeli zdający wypisze wszystkie dwucyfrowe parzyste liczby naturalne i poda ich sumę, to otrzymuje **2 punkty**.

Zadanie 27. (0 - 2)

Wyznacz miarę kąta ostrego α , dla którego wyrażenie $\frac{\cos^3 \alpha + \sin^2 \alpha \cdot \cos \alpha}{\cos^2 \alpha}$ ma wartość 2.

I sposób rozwiązania

Zapisujemy równanie $\frac{\cos^3 \alpha + \sin^2 \alpha \cdot \cos \alpha}{\cos^2 \alpha} = 2$.

Przekształcamy lewą stronę, wyłączając wspólny czynnik przed nawias i stosując „jedynekę” trygonometryczną, otrzymujemy $\frac{\cos \alpha}{\cos^2 \alpha} = 2$.

Stąd $\cos \alpha = \frac{1}{2}$.

Zatem $\alpha = 60^\circ$.

II sposób rozwiązania

Zapisujemy równanie $\frac{\cos^3 \alpha + \sin^2 \alpha \cdot \cos \alpha}{\cos^2 \alpha} = 2$.

Mnożąc obustronnie przez $\cos^2 \alpha$ otrzymujemy $\cos^3 \alpha + \sin^2 \alpha \cdot \cos \alpha = 2 \cos^2 \alpha$.

Dzielimy obustronnie przez $\cos \alpha$ ($\cos \alpha > 0$) otrzymując $\cos^2 \alpha + \sin^2 \alpha = 2 \cos \alpha$.

Lewa strona równania jest „jedyneką” trygonometryczną, więc $1 = 2 \cos \alpha$. Stąd $\cos \alpha = \frac{1}{2}$.

Zatem $\alpha = 60^\circ$.

Schemat oceniania

Zdający otrzymuje 1pkt

- gdy przekształci równanie $\frac{\cos^3 \alpha + \sin^2 \alpha \cos \alpha}{\cos^2 \alpha} = 2$ do postaci: $\frac{\cos \alpha}{\cos^2 \alpha} = 2$.

albo

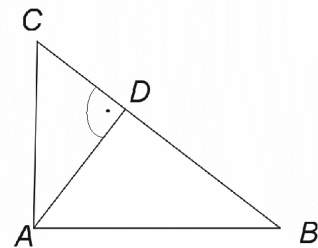
- gdy przekształci równanie $\frac{\cos^3 \alpha + \sin^2 \alpha \cos \alpha}{\cos^2 \alpha} = 2$ do postaci:
 $\cos^2 \alpha + \sin^2 \alpha = 2 \cos \alpha$

Zdający otrzymuje 2pkt

gdy obliczy $\cos \alpha = \frac{1}{2}$ i poda rozwiązanie: $\alpha = 60^\circ$.

Zadanie 28. (0 - 2)

Trójkąt ABC jest prostokątny. Punkt D jest spodkiem wysokości opuszczonej na przeciwprostokątną BC oraz $|DC| = \frac{1}{3}|BD|$ (patrz rysunek). Wykaż, że $|\angle ABD| = 30^\circ$.



I sposób rozwiązania

Zauważamy, że trójkąty ADC i BDA są podobne (cecha *kk*, $|\angle ACD| = |\angle BAD|$ oraz $|\angle DAC| = |\angle DBA|$). Zatem $\frac{|AD|}{|BD|} = \frac{|DC|}{|AD|}$, skąd $|AD|^2 = |BD| \cdot |DC|$.

Ponieważ $|DC| = \frac{1}{3}|BD|$, więc $|AD|^2 = |BD| \cdot \frac{1}{3}|BD|$.

Po przekształceniu otrzymujemy $\left(\frac{|AD|}{|BD|}\right)^2 = \frac{1}{3}$, stąd mamy $\frac{|AD|}{|BD|} = \frac{\sqrt{3}}{3}$.

Z definicji funkcji tangens kąta ABD w $\triangle BDA$ mamy: $\operatorname{tg}|\angle ABD| = \frac{|AD|}{|BD|} = \frac{\sqrt{3}}{3}$.

Zatem $|\angle ABD| = 30^\circ$.

Schemat oceniania I sposobu rozwiązania:**Zdający otrzymuje 1pkt**gdy zapisze $|AD|^2 = |BD| \cdot \frac{1}{3}|BD|$.**Zdający otrzymuje 2pkt**gdy wykaże, że $|\angle ABD| = 30^\circ$.**Uwaga**Zdający nie musi wykazywać podobieństwa $\triangle ADC$ i $\triangle BDA$.**II sposób rozwiązania**Korzystamy z własności wysokości w trójkącie prostokątnym, poprowadzonej z kąta prostego: $|AD|^2 = |BD| \cdot |DC|$.Ponieważ $|DC| = \frac{1}{3}|BD|$, więc $|DC| = x$, $|BD| = 3x$.Zatem $|AD|^2 = 3x^2$.Stąd $|AD| = x\sqrt{3}$.W trójkącie prostokątnym ABD obliczamy $\operatorname{tg}|\angle ABD| = \frac{|AD|}{|BD|} = \frac{x\sqrt{3}}{3x} = \frac{\sqrt{3}}{3}$.Zatem $|\angle ABD| = 30^\circ$.**Schemat oceniania II sposobu rozwiązania:****Zdający otrzymuje 1pkt**gdy wyznaczy $|AD| = x\sqrt{3}$.**Zdający otrzymuje 2pkt**gdy wykaże, że $|\angle ABD| = 30^\circ$.

Zadanie 29. (0 - 2)

Wyznacz równania stycznych do okręgu o równaniu $x^2 + y^2 - 4x + 2y + 1 = 0$, równoległych do osi odciętych układu współrzędnych.

Rozwiązanie

Wyznaczamy współrzędne środka okręgu i długość jego promienia.

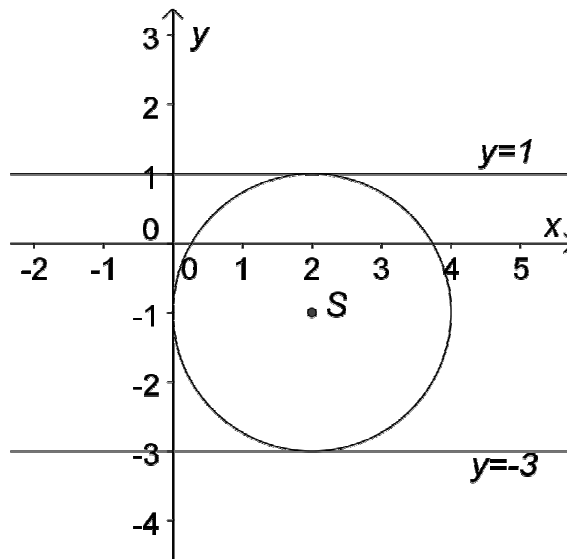
- Doprowadzamy równanie okręgu do postaci $(x-2)^2 + (y+1)^2 = 2^2$. Stąd odczytujemy:
 $S = (2, -1)$ oraz $r = 2$.

albo

- Wykorzystujemy równanie okręgu i zapisujemy: $-2a = -4$, $-2b = 2$ oraz korzystamy ze wzoru $r = \sqrt{a^2 + b^2 - c}$. Stąd $a = 2$ oraz $b = -1$, czyli $S = (2, -1)$.

Obliczamy r : $r = \sqrt{2^2 + (-1)^2} - 1 = 2$.

Sporządzamy rysunek i odczytujemy równania stycznych: $y = 1$ i $y = -3$.



Schemat oceniania

Zdający otrzymuje 1pkt
gdy wyznaczy współrzędne środka okręgu i długość jego promienia: $S = (2, -1)$, $r = 2$.

Zdający otrzymuje 2pkt
gdy poda równania stycznych: $y = 1$ i $y = -3$.

Uwagi

1. Jeżeli zdający wyznaczy współrzędne środka okręgu z błędem rachunkowym i konsekwentnie do popełnionego błędu wyznaczy równania stycznych, to otrzymuje za całe rozwiązanie **1 punkt**.
2. Jeżeli zdający wyznaczy długość promienia okręgu z błędem rachunkowym i konsekwentnie do popełnionego błędu wyznaczy równania stycznych, to otrzymuje za całe rozwiązanie **1 punkt**.

Zadanie 30. (0 - 4)

Wśród 150 mieszkańców pewnego osiedla przeprowadzono ankietę. Zadano pytanie, z jakiej sieci telefonii komórkowej korzystają. Wyniki badania przedstawiono w tabeli:

Sieć	Ile osób korzysta
„Krzyżyk”	75
„Kółko”	60

Okazało się, że wśród ankietowanych, 10 osób posiada telefony w obydwu sieciach. Oblicz prawdopodobieństwo, że losowo wybrana osoba spośród ankietowanych nie posiada telefonu w żadnej z wymienionych sieci. Wynik przedstaw w formie nieskracalnego ułamka.

I sposób rozwiązania

Oznaczmy zdarzenia:

A – zdarzenie polegające na wylosowaniu osoby, która jest abonentem sieci „Krzyżyk”,

B – zdarzenie polegające na wylosowaniu osoby, która jest abonentem sieci „Kółko”,

C – zdarzenie polegające na wylosowaniu osoby, która nie posiada telefonu w żadnej z wymienionych sieci.

Ankietę przeprowadzono wśród 150 osób, zatem $|\Omega| = 150$.

Ponieważ wśród ankietowanych występują osoby, korzystające z obu sieci, więc

$$|A \cup B| = |A| + |B| - |A \cap B|.$$

$$\text{Stąd } |A \cup B| = 75 + 60 - 10 = 125.$$

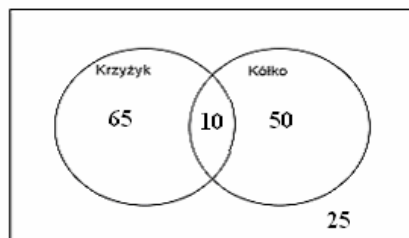
$$\text{Zatem } |C| = |\Omega| - |A \cup B| = 25.$$

$$P(C) = \frac{25}{150} = \frac{1}{6}$$

II sposób rozwiązania

Oznaczmy:

C – zdarzenie polegające na wylosowaniu osoby, która nie posiada telefonu w żadnej z wymienionych sieci.



$$|\Omega| = 150$$

Telefon, w co najmniej jednej z sieci, posiada $50 + 10 + 65 = 125$ osób.

$$\text{Zatem } |C| = 150 - 125 = 25.$$

$$\text{Stąd } P(C) = \frac{25}{150} = \frac{1}{6}.$$

Schemat oceniania

Rozwiązanie, w którym postęp jest niewielki, ale konieczny na drodze do pełnego rozwiązania 1 pkt

Zapisanie $|\Omega|=150$ lub opisanie liczby abonentów poszczególnych sieci telefonicznych, np. w postaci zbiorów.

Rozwiązanie, w którym jest istotny postęp 2 pkt

Wyznaczenie $|A \cup B|$: $|A \cup B|=125$.

Pokonanie zasadniczych trudności zadania 3 pkt

Wyznaczenie $|C|$: $|C|=25$.

Rozwiązanie pełne 4 pkt

Wyznaczenie prawdopodobieństwa w postaci ułamka nieskracalnego: $P(C)=\frac{1}{6}$.

Uwagi

1. Jeżeli zdający poda tylko wynik $P(C)=\frac{1}{6}$, to otrzymuje **0 punktów**.
2. Jeśli zdający rozwiąże zadanie do końca i $P(C)>1$ lub $P(C)<0$, to otrzymuje za całe rozwiązanie **0 punktów**.
3. Jeżeli zdający wyznaczy poprawnie $P(C)$, np. $P(C)=\frac{25}{150}$, $P(C)=\frac{5}{30}$, i nie przedstawi wyniku w postaci ułamka nieskracalnego, to otrzymuje maksymalnie **3 punkty**.
4. Jeżeli zdający popełni błąd rachunkowy przy wyznaczaniu $|A \cup B|$ **lub** $|C|$, i konsekwentnie do popełnionego błędu rozwiąże zadanie do końca, to otrzymuje maksymalnie **3 punkty**.

Zadanie 31. (0 - 5)

Liczba a jest o 3 większa od liczby b . Iloraz liczb a i b jest dwa razy mniejszy od sumy tych liczb. Wyznacz liczby a i b .

Rozwiązanie

Liczba a jest o 3 większa od liczby b , zatem $a = b + 3$.

Iloraz liczb a i b jest dwa razy mniejszy od sumy tych liczb, zatem $\frac{a}{b} = \frac{a+b}{2}$ i $b \neq 0$.

Rozwiązując układ równań:
$$\begin{cases} a = b + 3 \\ \frac{a}{b} = \frac{a+b}{2} \end{cases}$$
, otrzymujemy równanie kwadratowe

$$2b^2 + b - 6 = 0.$$

Rozwiązaniem równania jest $b = -2$ lub $b = 1,5$. Zatem $\begin{cases} a = 1 \\ b = -2 \end{cases}$ lub $\begin{cases} a = 4,5 \\ b = 1,5 \end{cases}$.

Schemat oceniania

Rozwiązanie, w którym postęp jest niewielki, ale konieczny na drodze do całkowitego rozwiązania zadania 1pkt

Zapisanie jednego z równań $a = b + 3$ lub $\frac{a}{b} = \frac{a+b}{2}$ ($b \neq 0$).

Rozwiązanie, w którym jest istotny postęp 2pkt

Zapisanie układu równań:
$$\begin{cases} a = b + 3 \\ \frac{a}{b} = \frac{a+b}{2} \end{cases}$$

Pokonanie zasadniczych trudności zadania..... 3pkt

Doprowadzenie układu równań do postaci równania kwadratowego: $2b^2 + b - 6 = 0$ i rozwiązanie go: $b = -2$ lub $b = 1,5$.

Rozwiązanie zadania do końca, lecz z usterkami, które jednak nie przekreślają poprawności rozwiązania (np. błędy rachunkowe)..... 4pkt

- doprowadzenie układu równań do równania kwadratowego z błędem rachunkowym i konsekwentne do popełnionego błędu rozwiązanie zadania do końca
- albo
- rozwiązanie równania kwadratowego z błędem rachunkowym i konsekwentne do popełnionego błędu rozwiązanie zadania do końca.

Rozwiązanie bezbłędne 5 pkt

Podanie wartości liczb a i b : $\begin{cases} a = 1 \\ b = -2 \end{cases}$ lub $\begin{cases} a = 4,5 \\ b = 1,5 \end{cases}$.

Zadanie 32. (0 - 6)

Mamy dwa pojemniki: pierwszy ma kształt sześcianu, drugi - ostrosłupa prawidłowego czworokątnego. Przekątna sześcianu ma długość $6\sqrt{2}$ cm. Wysokość ostrosłupa tworzy ze ścianą boczną kąt o mierze 60° . Pole powierzchni bocznej ostrosłupa jest równe $64\sqrt{3}$ cm². Sprawdź na podstawie odpowiednich obliczeń, czy woda wypełniająca całkowicie pierwszy pojemnik zmieści się w drugim pojemniku.

Rozwiązanie

Strategia rozwiązania tego zadania sprowadza się do realizacji następujących etapów:

- narysowanie obu brył: sześcianu i ostrosłupa prawidłowego czworokątnego z zaznaczonym kątem pomiędzy wysokością a ścianą boczną,
- obliczenie długości krawędzi sześcianu,
- obliczenie krawędzi podstawy ostrosłupa i jego wysokości,
- obliczenie objętości obu brył i ich porównanie.

Rysujemy sześcian i wprowadzamy oznaczenia:

$|AB| = |BC| = a$ - długość krawędzi sześcianu,

V_1 - objętość sześcianu.

W sześcianie przekątna ma długość $|BD'| = 6\sqrt{2}$ cm.

Wyznaczamy długość krawędzi a , korzystając z twierdzenia Pitagorasa w $\triangle BA'D'$:

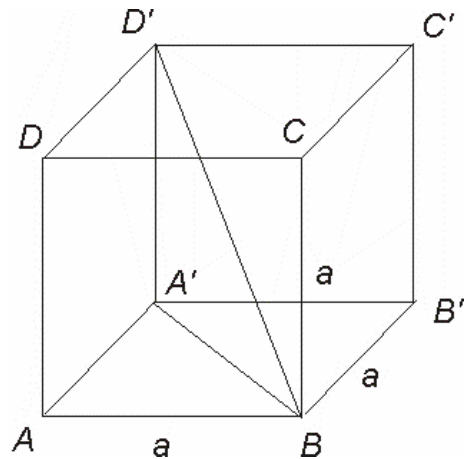
$$|A'D'|^2 + |A'B|^2 = |BD'|^2$$

$$a^2 + (a\sqrt{2})^2 = (6\sqrt{2})^2$$

$$3a^2 = 72$$

Zatem $a = 2\sqrt{6}$ cm.

Wyznaczamy objętość sześcianu: $V_1 = a^3 = (2\sqrt{6})^3 = 48\sqrt{6}$ cm³ $\approx 117,6$ cm³.



Rysujemy ostrosłup i wprowadzamy oznaczenia:

$|EF| = |FG| = b$ - długość krawędzi podstawy ostrosłupa,

$|SO| = h$ - długość wysokości ostrosłupa,

$|SM| = h_1$ - długość wysokości ściany bocznej ostrosłupa,

V_2 - objętość ostrosłupa.

W ostrosłupie prawidłowym czworokątnym pole powierzchni bocznej jest równe $P_b = 64\sqrt{3}$.

$$\triangle SOM \text{ jest prostokątny, zatem } \sin 60^\circ = \frac{b}{h_1}.$$

Stąd $b = \sqrt{3}h_1$.

Ponieważ $P_b = 64\sqrt{3}$ i $P_b = 4 \cdot \frac{1}{2} \cdot b \cdot h_1$, więc $64\sqrt{3} = 4 \cdot \frac{1}{2} \cdot \sqrt{3}h_1 \cdot h_1$.

Zatem $h_1 = 4\sqrt{2}$ cm, $b = 4\sqrt{6}$ cm.

Obliczamy długość wysokości ostrosłupa h , korzystając

• z definicji funkcji tangens.

$$\operatorname{tg} 60^\circ = \frac{b}{h}$$

$$h = 2\sqrt{2} \text{ cm.}$$

albo

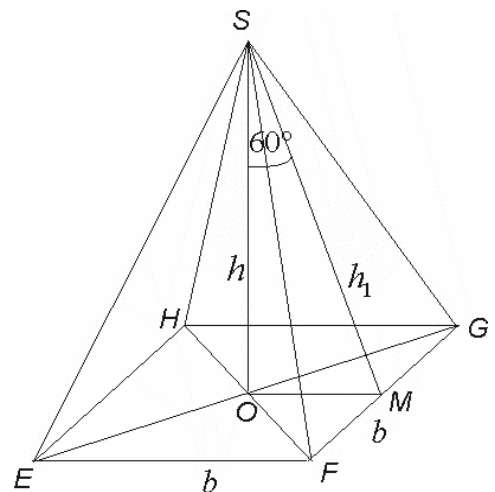
• z twierdzenia Pitagorasa

$$h^2 + (2\sqrt{6})^2 = (4\sqrt{2})^2$$

$$h = 2\sqrt{2} \text{ cm.}$$

Wyznaczamy objętość ostrosłupa $V_2 = \frac{1}{3} \cdot b^2 \cdot h = \frac{1}{3} \cdot (4\sqrt{6})^2 \cdot 2\sqrt{2} = 64\sqrt{2}$ cm³ $\approx 90,5$ cm³.

Ponieważ $V_1 > V_2$, stąd wniosek, że woda z pierwszego pojemnika nie zmieści się w drugim pojemniku.



Schemat oceniania:**Rozwiązanie, w którym postęp jest niewielki, ale konieczny na drodze do całkowitego rozwiązania zadania 1pkt**

- wyznaczenie długości krawędzi sześcianu: $a = 2\sqrt{6} \text{ cm}$

albo

- zapisanie zależności pomiędzy długością krawędzi podstawy ostrosłupa a długością wysokości jego ściany bocznej: $b = \sqrt{3}h_1$.

Rozwiązanie, w którym jest istotny postęp 2pkt

- wyznaczenie objętości sześcianu V_1 : $V_1 = 48\sqrt{6} \text{ cm}^3 \approx 117,6 \text{ cm}^3$

albo

- wyznaczenie długości krawędzi podstawy ostrosłupa b : $b = 4\sqrt{6} \text{ cm}$.

Pokonanie zasadniczych trudności zadania..... 4pkt

Wyznaczenie objętości sześcianu i ostrosłupa:

$$V_1 = 48\sqrt{6} \text{ cm}^3 \approx 117,6 \text{ cm}^3, V_2 = 64\sqrt{2} \text{ cm}^3 \approx 90,5 \text{ cm}^3$$

Rozwiązanie zadania do końca, lecz z usterkami, które jednak nie przekreślają poprawności rozwiązania (np. błędy rachunkowe)..... 5pkt

- wyznaczenie długości krawędzi sześcianu z błędem rachunkowym i konsekwentne doprowadzenie rozwiązania zadania do końca

albo

- wyznaczenie długości wysokości ściany bocznej ostrosłupa z błędem rachunkowym i konsekwentne doprowadzenie rozwiązania zadania do końca

albo

- wyznaczenie długości krawędzi podstawy ostrosłupa z błędem rachunkowym i konsekwentne doprowadzenie rozwiązania zadania do końca

albo

- wyznaczenie objętości sześcianu z błędem rachunkowym i konsekwentne doprowadzenie rozwiązania zadania do końca

albo

- wyznaczenie objętości ostrosłupa z błędem rachunkowym i konsekwentne doprowadzenie rozwiązania zadania do końca

Rozwiązanie pełne..... 6pkt

Porównanie objętości obu brył i wyciągnięcie wniosku: woda z pierwszego pojemnika nie zmieści się w drugim pojemniku.

Uwagi

- Jeżeli zdający wyznaczy objętość sześcianu i długość krawędzi podstawy ostrosłupa i na tym poprzestanie, to otrzymuje maksymalnie **3 punkty**.
- Jeżeli zdający obliczy tylko objętość ostrosłupa i na tym poprzestanie, to otrzymuje maksymalnie **3 punkty**.